

LES 116 Optellen tot 100

1 Los juist op. Kleur het vinkje als je alles juist hebt.

a  $48 + 30 = \dots 78 \dots$

$16 + 80 = \dots 96 \dots$

$34 + 50 = \dots 84 \dots$

$51 + 40 = \dots 91 \dots$

$63 + 20 = \dots 83 \dots$



b  $56 + \dots 4 \dots = 60$

$92 + \dots 8 \dots = 100$

$63 + \dots 7 \dots = 70$

$41 + \dots 9 \dots = 50$

$84 + \dots 6 \dots = 90$




c  $30 + 6 = \dots 36 \dots$

$20 + 1 = \dots 21 \dots$

$90 + 4 = \dots 94 \dots$

$60 + 5 = \dots 65 \dots$

$50 + 6 = \dots 56 \dots$



d  $32 + 8 = \dots 40 \dots$

$47 + 3 = \dots 50 \dots$

$96 + 4 = \dots 100 \dots$

$11 + 9 = \dots 20 \dots$

$85 + 5 = \dots 90 \dots$



2 Los juist op en stuur een kaartje.

Alles juist? Zet je naam op het kaartje, kleur de postzegel en kies opnieuw.

a  $58 + 4 = 62$   
 $60 \quad 2 \quad 2$

b  $37 + 8 = 45$   
 $40 \quad 3 \quad 5$

$79 + 5 = 84$   
 $80 \quad 1 \quad 4$

$56 + 9 = 65$   
 $60 \quad 4 \quad 5$



$$b \quad 6 + 27 = \overset{27}{\underset{30}{\textcircled{27}}} + \underset{3}{\textcircled{6}} = 33$$

$$3 + 39 = \overset{39}{\underset{40}{\textcircled{39}}} + \underset{2}{\textcircled{3}} = 42$$

$$8 + 63 = \overset{63}{\underset{70}{\textcircled{63}}} + \underset{1}{\textcircled{8}} = 71$$

$$7 + 55 = \overset{55}{\underset{60}{\textcircled{55}}} + \underset{2}{\textcircled{7}} = 62$$



|                      |   |
|----------------------|---|
|                      |  |
| Groetjes uit Londen! | Aan mijn vrienden   |
| van                  | Klas 2  |
|                      | Onze school   |

$$c \quad 46 + 19 = \overset{46}{\underset{56}{\textcircled{46}}} + \underset{9}{\textcircled{19}} = 65$$

$$54 + 37 = \overset{54}{\underset{84}{\textcircled{54}}} + \underset{7}{\textcircled{37}} = 91$$


$$28 + 68 = \overset{28}{\underset{88}{\textcircled{28}}} + \underset{8}{\textcircled{68}} = 96$$

$$15 + 66 = \overset{15}{\underset{75}{\textcircled{15}}} + \underset{6}{\textcircled{66}} = 81$$

$$35 + 57 = \overset{35}{\underset{85}{\textcircled{35}}} + \underset{7}{\textcircled{57}} = 92$$

$$69 + 13 = \overset{69}{\underset{79}{\textcircled{69}}} + \underset{3}{\textcircled{13}} = 82$$



|                    |   |
|--------------------|---|
|                    |  |
| Groetjes uit Rome! | Aan mijn vrienden   |
| van                | Klas 2  |
|                    | Onze school   |



- d • Flavia reist naar Turkije. Ze betaalt 58 euro voor een vliegtuigticket en 25 euro toegang voor de Blauwe Moskee. Hoeveel euro is dat samen?

Bewerking:  $25 + 58 = 75 + 8 = 83$

$$\begin{array}{r} 75 \\ + 8 \\ \hline 83 \end{array}$$


Dat is samen 83 euro.

- Flavia bezoekt een museum. In zaal 1 hangen 46 schilderijen. In zaal 2 hangen er 15 meer. Hoeveel schilderijen hangen er in zaal 2?

Bewerking:  $46 + 15 = 56 + 5 = 61$

$$\begin{array}{r} 56 \\ + 5 \\ \hline 61 \end{array}$$

In zaal 2 hangen 61 schilderijen.



|                                     |  |
|-------------------------------------|--|
| Groetjes uit Istanbul!<br>van _____ | <br>Aan mijn vrienden<br>Klas 2<br>Onze school |
|-------------------------------------|--|

- e In Rome maakt meester Bas 25 foto's, in Parijs 36 foto's en in Brussel 19 foto's. Hoeveel foto's zijn dat samen?

Bewerking:  $25 + 36 + 19 = 80$

Dat zijn samen 80 foto's.



|                           |   |
|---------------------------|---|
| Groetjes uit<br>van _____ | <br>Aan mijn vrienden<br>Klas 2<br>Onze school |
|---------------------------|---|